


✓ Dans un problème où il faut trouver ce qui manque, j'utilise une addition à trou ou une soustraction.

Combien d'enfants manque-t-il pour avoir une équipe de 11 joueurs?

1



J'écris les calculs.

$$3 + \dots = 11$$

$$11 - 3 = \dots$$

Je réponds.

Il manque joueurs.

Combien d'euros manque-t-il pour acheter le ballon?

2



J'écris les calculs.

$$2 + \dots = 16$$

$$16 - 2 = \dots$$

Je réponds.

Il manque €
pour acheter le ballon.

Relie.



14

9

35

22

29

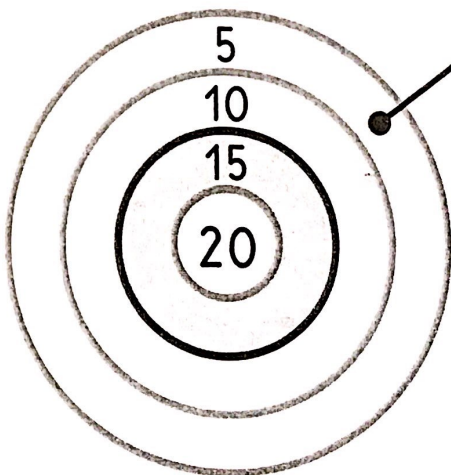
51

45

42

Sami a déjà 5 points.

3 Combien lui en manque-t-il pour avoir 20 points?



J'écris les calculs.


$$5 + \dots = 20$$

$$20 - 5 = \dots$$

Je réponds.

Il manque points
à Sami.

4 Lola veut 18 balles de tennis. Combien lui en manque-t-il?



J'écris les calculs.

$$3 + \dots = 18$$

$$18 - 3 = \dots$$

Je réponds.

Il manque balles
à Lola.

5 Calcule.

$$2 + 15 = 17$$

$$17 - 2 = 15$$

$$2 + \dots = 11$$

$$11 - 2 = \dots$$

$$2 + \dots = 9$$

$$9 - 2 = \dots$$

$$3 + \dots = 14$$

$$14 - 3 = \dots$$

$$4 + \dots = 11$$

$$11 - 4 = \dots$$

$$3 + \dots = 12$$

$$12 - 3 = \dots$$

Complète.

0 5 10