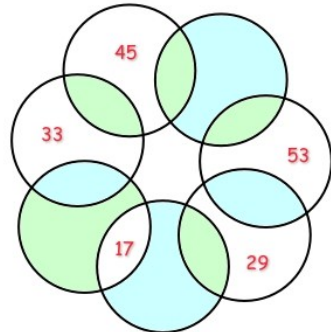


Les 7 cercles magiques

Il faut réussir à placer chacun des nombres suivants dans les zones colorées (vert et bleu) des disques, en respectant :

- ♦ un seul nombre par zone,
- ♦ la somme des 3 nombres contenus dans un même disque doit être égale à 100.

10 14 22 26 37 41 49 57 61



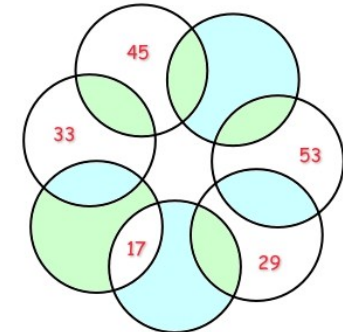
disque : surface délimitée par un cercle.

Les 7 cercles magiques

Il faut réussir à placer chacun des nombres suivants dans les zones colorées (vert et bleu) des disques, en respectant :

- ♦ un seul nombre par zone,
- ♦ la somme des 3 nombres contenus dans un même disque doit être égale à 100.

10 14 22 26 37 41 49 57 61



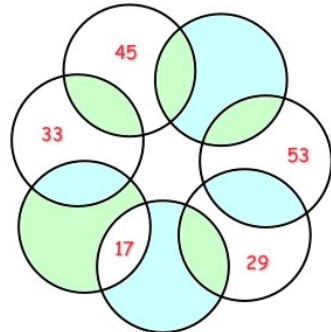
disque : surface délimitée par un cercle.

Les 7 cercles magiques

Il faut réussir à placer chacun des nombres suivants dans les zones colorées (vert et bleu) des disques, en respectant :

- ♦ un seul nombre par zone,
- ♦ la somme des 3 nombres contenus dans un même disque doit être égale à 100.

10 14 22 26 37 41 49 57 61



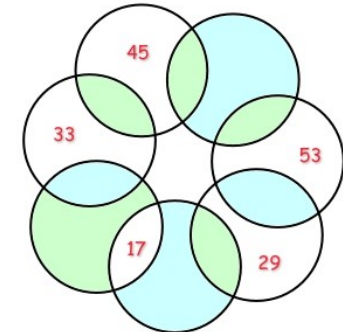
disque : surface délimitée par un cercle.

Les 7 cercles magiques

Il faut réussir à placer chacun des nombres suivants dans les zones colorées (vert et bleu) des disques, en respectant :

- ♦ un seul nombre par zone,
- ♦ la somme des 3 nombres contenus dans un même disque doit être égale à 100.

10 14 22 26 37 41 49 57 61



disque : surface délimitée par un cercle.